

Итоговая контрольная работа за курс астрономии старшей школы

Вариант № 1

Инструкция по выполнению работы

На выполнение контрольной работы по астрономии отводится 45 минут. Работа состоит из 3-х частей и включает 10 заданий.

Часть 1 содержит 4 задания (1–4). К каждому заданию приводится 4 варианта ответа, из которых только 1 верный. При выполнении задания части 1 в тетради для контрольных работ сделайте запись: «Часть 1», проставьте номера заданий по порядку и запишите номер выбранного ответа в контрольной работе. Если вы выбрали не тот номер, то зачеркните этот номер крестиком, а рядом поставьте номер правильного ответа.

Часть 2 включает 4 задания с кратким ответом (5–8). При выполнении заданий части 2 ответ записывается в тетради для контрольных работ. При этом делается запись: «Часть 2», проставляются номера заданий по порядку и записывается последовательность цифр ответа. В случае записи неверного ответа зачеркните его и запишите рядом новый.

Часть 3 содержит 2 задания (9–10), на которые следует дать развернутый ответ. Ответы на задания части 3 записываются в тетради для контрольных работ, после записи: «Часть 3». При выполнении заданий части 2 и 3 значение искомой величины следует записать в тех единицах, которые указаны в условии задания. Если такого указания нет, то значение величины следует записать в Международной системе единиц (СИ).

При вычислениях разрешается использовать непрограммируемый калькулятор.

При выполнении заданий можно пользоваться черновиком. Записи в черновике не учитываются при оценивании работы.

Советуем выполнять задания в том порядке, в котором они даны. С целью экономии времени пропускайте задание, которое не удаётся выполнить сразу, и переходите к следующему. Если после выполнения всей работы у вас останется время, то можно вернуться к пропущенным заданиям.

За каждый правильный ответ в «Части 1» дается 1 балл, в «Части 2» 1–2 балла, в «Части 3» – от 1 до 3 баллов. Баллы, полученные вами за все выполненные задания, суммируются. Максимальное количество баллов 18.

Отметка 5 ставится за более 88% выполненной работы (16–18 баллов).

Отметка 4 ставится за более 70% выполненной работы (13–15 баллов).

Отметка 3 ставится за более 55% выполненной работы (10–12 баллов).




Постарайтесь выполнить как можно больше заданий и набрать как можно большее количество баллов.


Желаем успеха!

Ниже приведены справочные данные, которые могут понадобиться вам при выполнении работы.

Наиболее важные величины, встречающиеся в астрономии	
Видимый угловой диаметр Солнца и Луны	0,5°
Продолжительность звездного года (период обращения Земли вокруг Солнца)	365 сут 5 ч 49 мин
Продолжительность синодического месяца (период изменения фаз Луны)	29,5 сут
Продолжительность звездного месяца	27,3 сут

отмеченному буквой, подберите соответствующее изображение, обозначенное цифрой. Запишите в таблицу выбранные цифры под соответствующими буквами.

НАЗВАНИЕ СОЗВЕЗДИЯ	ИЗОБРАЖЕНИЕ
А. Перас	1. 
Б. Лебедь	2. 
В. Орион	3. 
Г. Кассиопея	4.

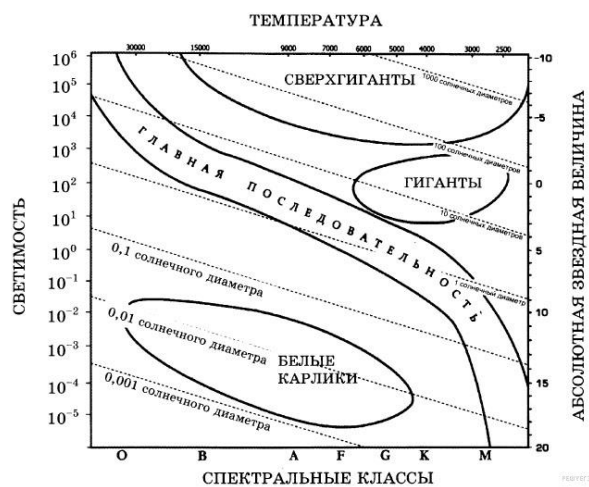
			
Ответ:	А	Б	В
			Г

6. Расположите астрономические величины в порядке их **возрастания**. Запишите в таблицу получившуюся последовательность цифр ответа.

- 1) 200 а.е.
- 2) 12 пк
- 3) 500 000 000 км
- 4) 5 св. лет

Ответ: |

7. На рисунке представлена диаграмма Герцшпрунга – Рассела.



Выберите **два** утверждения о звездах, которые соответствуют диаграмме.

1. Температура звезд спектрального класса G в 2 раза выше температуры звезд спектрального класса A.
2. Звезда Бетельгейзе относится к сверхгигантам, поскольку ее радиус почти в 1 000 раз превышает радиус Солнца.
3. Плотность белых карликов существенно меньше средней плотности гигантов.
4. Звезда Антарес имеет температуру поверхности 3 300 K и относится к звездам спектрального класса A.
5. «Жизненный цикл» звезды спектрального класса K главной последовательности более длительный, чем звезды спектрального класса В главной последовательности.

Ответ:

--	--

Ответом к заданию 8 является число. В тетради запишите номер вопроса и полученный ответ. Каждую цифру пишите в отдельной клеточке. Единицы измерения астрономических величин писать не нужно.

8.	С каким периодом обращалась бы вокруг Солнца Земля, если бы масса Солнца была вдвое больше? Ответ выразите в годах и округлите до десятых.
	Ответ: _____ г

Часть 3

Для ответа на задания части 3 (задания 9-10) используйте тетрадь для контрольных работ. Запишите сначала номер задания, а затем развернутый ответ на него.

Задание 9 представляет собой вопрос, на который необходимо дать письменный ответ. Полный ответ должен включать в себя не только ответ на вопрос, но и его развернутое логически связанное обоснование. При необходимости сделайте рисунок. Ответ записывайте четко и разборчиво.

9.	Почему небо голубого цвета, если главный источник света для Земли – Солнце, которое светит почти белым светом? Почему небо становится красным на закате и на восходе?
----	---

Для задания 10 необходимо записать полное решение, которое включает запись краткого устного ответа.

10.	Какой наименьший линейный диаметр должно иметь солнечное пятно, чтобы его можно было различить невооруженным глазом (при наблюдениях через специальный светофильтр), если разрешающая способность глаза равна $1'$. Ответ запишите в км.
-----	---